

サンプル問題

以下のサンプル問題は包括的ではなく、必ずしも試験を構成するすべての種類の問題を表すとは限りません。問題は、個人が認定試験を受ける準備ができているかどうかを評価するためのものではありません。

SAS Visual Analytics Exploration and Design

問題1

SAS Visual Analytics Explorerを使用する場合、サーバーのSASデータセットのインポートとローカルのSASデータセットのインポートとの違いは何ですか。

- A. サーバーからインポートするときにはカラムの属性を変更することはできますが、ローカルのSASデータセットをインポートするときには行えません。
- B. ローカルのSASデータセットをインポートするときにはカラムの属性を変更することはできますが、サーバーからインポートするときには行えません。
- C. サーバーからインポートするときは、SASデータセットをメタデータに登録する必要があります。
- D. ローカルのSASデータセットをインポートするときは、データの列と行をプレビューできます。

正解 = "D"

問題2

SAS Visual Analytics Designerの以下の図を参照してください。



ツリーマップの値が棒グラフの値よりも低い理由としては何が考えられますか。

- A. ツリーマップでSalesの集計が変更されました。
- B. ツリーマップでは上位8つの値のみを表示するランクが設定されました。
- C. データソースフィルタがツリーマップに適用されました。
- D. ツリーマップのメジャーはSalesで、棒グラフのメジャーはSales（百万）です。

正解 = "A"

問題3

SAS Visual Analytics Explorerで、日付データアイテムを自動グラフビジュアルにドラッグすると、棒グラフまたは折れ線グラフが作成されます。作成されるグラフの種類を決定する要因は何ですか。

- A. 日付データアイテムに適用される書式によって、表示されるグラフの種類が決まります。
- B. データアイテムのモデルのプロパティが個別に設定されている場合は棒グラフが作成され、モデルのプロパティが連続に設定されている場合は折れ線グラフが作成されません。
- C. 自動グラフに関連付けられたプロパティによって、表示されるグラフの種類が決まります。
- D. 折れ線グラフは、データ項目のモデルのプロパティが個別に設定されている場合に作成され、モデルのプロパティが連続に設定されている場合は棒グラフが作成されます。

正解 = "B"

問題4

コンテンツ開発者は、SAS Visual Analytics Explorerを使用して、カーディナリティの高い2つのメジャー間の関係を検証したいと考えています。開発者はどのビジュアルを使用すべきですか。

- A. 散布図
- B. ヒートマップ
- C. 散布図マトリックス
- D. ツリーマップ

正解 = "B"

問題5

コンテンツ開発者は、SAS Visual Analytics Explorerから仕事仲間に電子メールを送信したいと考えています。どの記述が正しいでしょうか。

- A. From電子メールアドレスは必須ではありません。
- B. 探索は電子メールの添付ファイルとして追加されます。
- C. 探索はExplorerから電子メールで送信することはできません。
- D. 電子メールを受信したユーザーは、ログオンして探索を表示する必要があります。

正解 = "D"

問題6

コンテンツ開発者は、クロス表の表示ルールを作成します。表示ルールはクロス表にどのよ

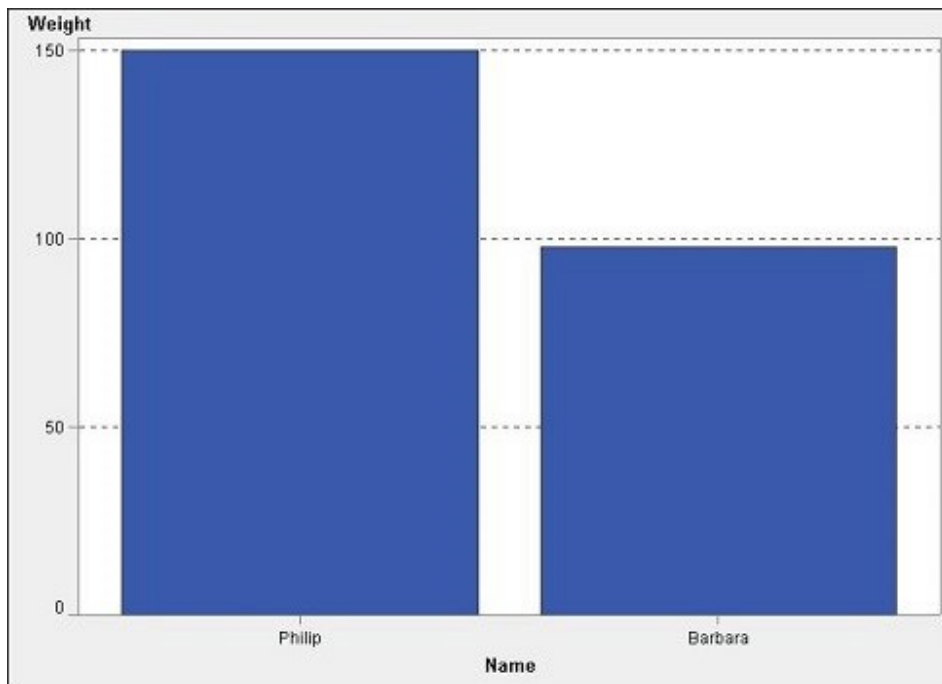
うな変更を適用できますか。

- A. 表示ルールによって結果が返されない場合は、クロス表を非表示にすることができます。
- B. クロス表の輝度を変更することができます。
- C. 個々のセルを色付けし強調表示することができます。
- D. 行を色付けし強調表示することができます。

正解 = "C"

問題7

SAS Visual Analytics Designerの棒グラフを参照してください。



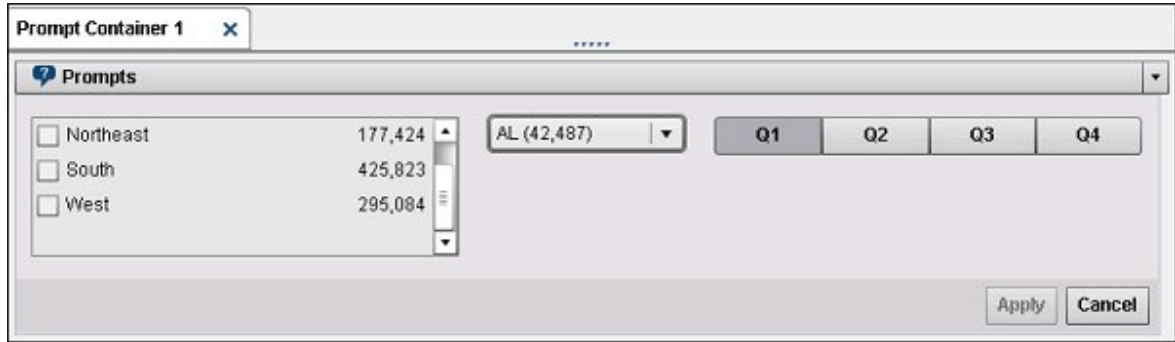
Philipは16歳です。Barbaraは13歳です。「Ageが14以上」の場合にグラフを赤にする表示ルールをコンテンツ開発者が作成すると、上記のグラフはどうなりますか。

- A. Philipのバーは赤くなります。
- B. いずれのバーも変化しない。
- C. グラフにはPhilipのバーのみが表示されます。
- D. AgeがWeightメジャーに置き換わります。

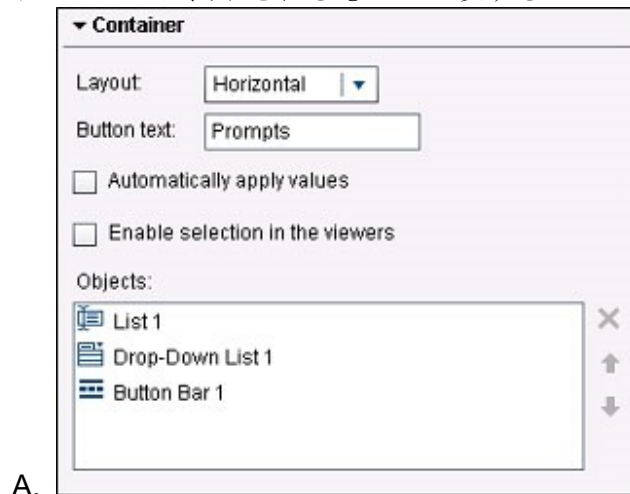
正解 = "A"

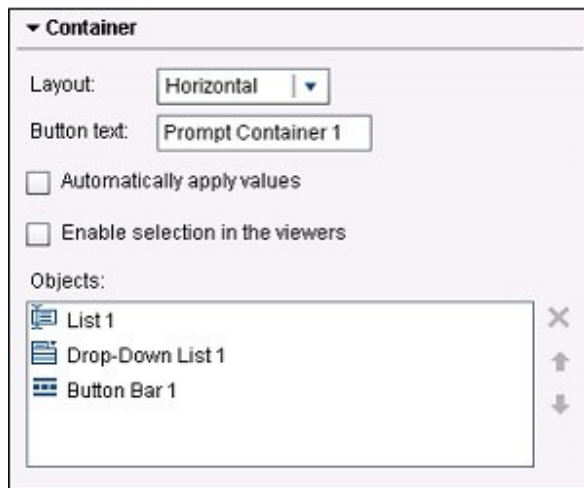
問題8

下記の図を参照してください。

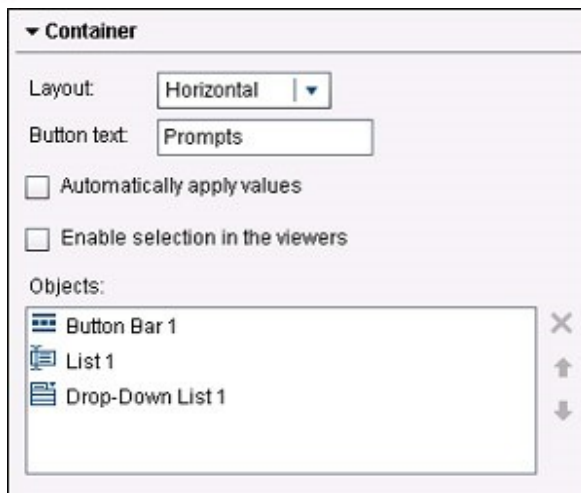


コンテンツ開発者は、上記のプロンプトコンテナを含むレポートを作成しました。プロンプトコンテナに表示されるものと一致するプロパティの設定は、次のうちどれですか。





C.

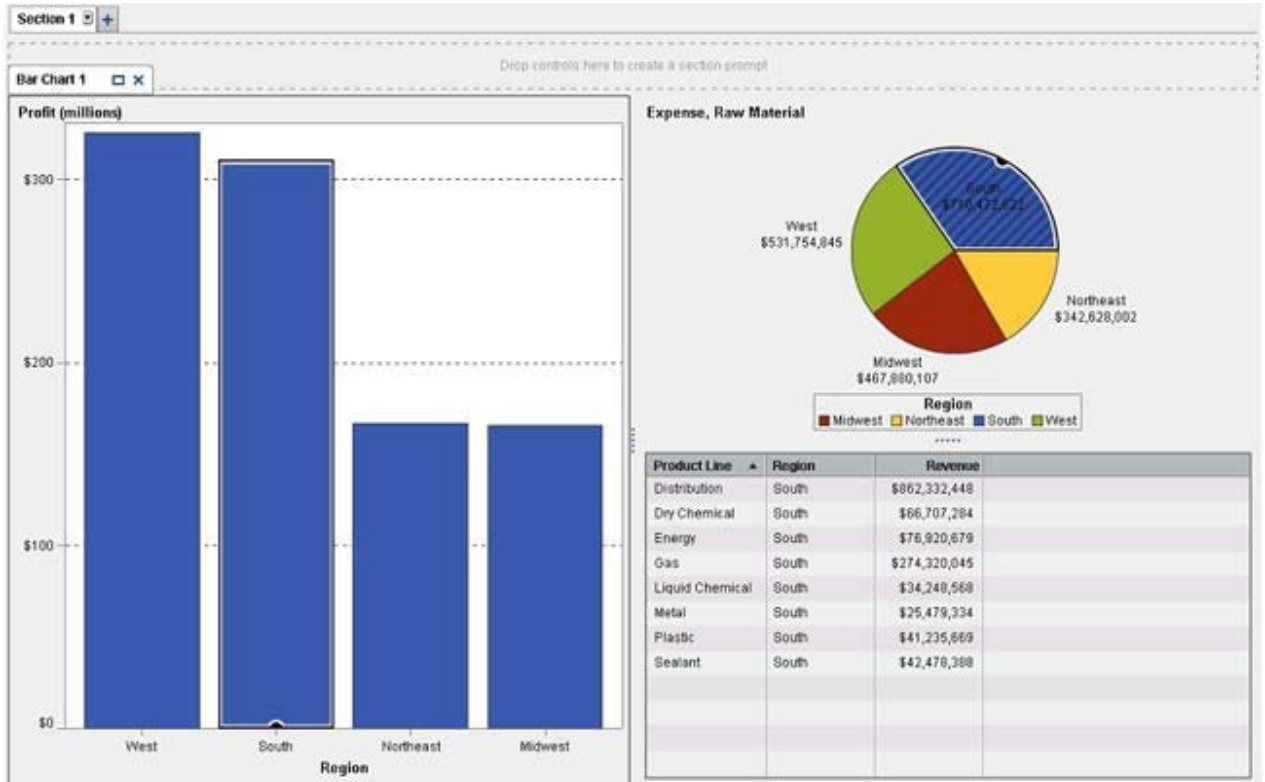


D.

正解 = "A"

問題9

下記の図を参照してください。



コンテンツ開発者が図に表示されるレポートを作成しました。棒グラフと円グラフの間にはどのインタラクションが作成されていますか。

- A. フィルタインタラクション
- B. ブラシインタラクション
- C. 情報ウィンドウのリンク
- D. ブラシリンク

正解 = "B"

問題10

SAS Visual Analytics Designerでは、どの共有オプションでレポートジョブを作成する必要がありますか。

- A. メールオプション
- B. バッチメールオプション
- C. レポートの配信オプション
- D. レポートのアラートオプション

正解 = "C"